

Constable Executive Male and Female in Delhi Police Examination 2020

Roll Number	Delhi Police Constable Question Paper
Candidate Name	
Venue Name	Shri Aatm Vallabh Jain Girls P.G College
Exam Date	27/11/2020
Exam Time	9:00 AM - 10:30 AM
Subject	Constable in Delhi Police Exam 2020



STUDYTOSUCCESS

Section : Part A- General Knowledge or Current Affairs

Q.1 निम्नलिखित में से कौन सा शिलालेख, 'सुदर्शन झील' नामक झील का पुनरुद्धार कार्य किए जाने का वर्णन करता है?

- Ans 1. रुद्रदमन का जूनागढ़ शिलालेख
 2. समुद्रगुप्त की इलाहाबाद प्रशस्ति
 3. पुलकेशिन का ऐहोल शिलालेख
 4. खारवेल का हाथीगुंफा शिलालेख

Question ID : 8161616542

Status : Answered

Chosen Option : 2

Q.2 सिबिल (CIBIL) के संक्षिप्त नाम से जानी जाने वाली अभिकरण (एजेंसी) निम्नलिखित में से किस क्षेत्र से संबंधित है?

- Ans 1. बीमा क्षेत्र
 2. बैंकिंग क्षेत्र
 3. शर्करा क्षेत्र
 4. वाहन क्षेत्र



Studytosuccess.in

Question ID : 8161616521

Status : Not Answered

Chosen Option : --

Q.3 निम्नलिखित में से कौन सी, रबी की एक फसल नहीं है?

- Ans 1. चना
 2. सरसों
 3. कपास
 4. जौ

Question ID : 8161616536

Status : Answered

Chosen Option : 3

Q.4 निम्नलिखित में से कौन सा जीव अपने शरीर के बाहर भोजन विखंडित करने के पश्चात् उसे अवशोषित करता है?

- Ans
- 1. मनुष्य (Humans)
 - 2. अज़ाडिरच्टा (Azadirachta)
 - 3. राइज़ोपस (Rhizopus)
 - 4. मैंगीफ़ेरा (Mangifera)

Question ID : 8161616533

Status : Not Answered

Chosen Option : --

Q.5 असहयोग आंदोलन के दौरान निम्नलिखित में से किस प्रांत में चौरा-चौरा कांड घटित हुआ था?

- Ans
- 1. उत्तर-पश्चिम सीमांत प्रांत
 - 2. मध्य प्रांत
 - 3. उड़ीसा
 - 4. संयुक्त प्रांत

Question ID : 8161616541

Status : Answered

Chosen Option : 2

Q.6 भारत में, निम्नलिखित में से किस फसल की कृषि लगभग विशिष्ट रूप से दक्षिणी राज्यों में केंद्रित है?

- Ans
- 1. कॉफ़ी
 - 2. कपास
 - 3. चाय
 - 4. बाँस



Studytosuccess.in

Question ID : 8161616535

Status : Answered

Chosen Option : 2

Q.7 भारत के संविधान का निम्नलिखित में से कौन सा अनुच्छेद यह घोषणा करता है, कि सर्वोच्च न्यायालय एक अभिलेख न्यायालय होगा?

- Ans
- 1. अनुच्छेद 129
 - 2. अनुच्छेद 111
 - 3. अनुच्छेद 119
 - 4. अनुच्छेद 135

Question ID : 8161616527

Status : Answered

Chosen Option : 4

Q.8 निम्नलिखित में से किस राज्य में इन्द्रावती नदी पर चित्रकूट जलप्रपात स्थित है?

- Ans 1. छत्तीसगढ़
 2. महाराष्ट्र
 3. उत्तर प्रदेश
 4. झारखंड

Question ID : 8161616534
 Status : Answered
 Chosen Option : 1

Q.9 केंद्रीय बजट 2020-21 के अनुसार, _____ तक ₹1 लाख करोड़ मत्स्य उत्पाद निर्यात का लक्ष्य रखा गया है।

- Ans 1. 2025-26
 2. 2022-23
 3. 2023-24
 4. 2024-25

Question ID : 8161616520
 Status : Answered
 Chosen Option : 4

Q.10 मैग्नस कार्लसन _____ के एक अंतरराष्ट्रीय शतरंज खिलाड़ी हैं।

- Ans 1. नॉर्वे
 2. जर्मनी
 3. रूस
 4. फ्रांस



Studytosuccess.in

Question ID : 8161616506
 Status : Not Answered
 Chosen Option : --

Q.11 निम्नलिखित में से किस राज्य में दैमाबाद नामक ताम्रपाषाणकालीन संस्कृति स्थल स्थित है?

- Ans 1. महाराष्ट्र
 2. उत्तर प्रदेश
 3. पंजाब
 4. ओडिशा

Question ID : 8161616543
 Status : Answered
 Chosen Option : 1

Q.12 निम्नलिखित में से किसके हृदय में दो प्रकोष्ठ पाए जाते हैं?

- Ans 1. स्कॉलियोडॉन्स
 2. मानव
 3. छिपकली
 4. मगरमच्छ

Question ID : 8161616528

Status : Not Answered

Chosen Option : --

Q.13 'लोटिया' नामक गीतों का संबंध पारंपरिक रूप से निम्नलिखित में से किस राज्य से है?

- Ans 1. मेघालय
 2. राजस्थान
 3. महाराष्ट्र
 4. तेलंगाना

Question ID : 8161616501

Status : Not Answered

Chosen Option : --

Q.14 भारतीय राष्ट्रीय लेखाकरण प्रथाओं के अनुसार, वास्तविक जी.डी.पी. (GDP) प्राप्त करने के लिए, सांकेतिक सकल घरेलू उत्पाद (GDP) में निम्नलिखित में से किसे समायोजित किया जाता है?

- Ans 1. मूल्यहास
 2. विदेशी मुद्रा
 3. मुद्रास्फीति
 4. सरकारी ऋण



Studytosuccess.in

Question ID : 8161616519

Status : Answered

Chosen Option : 3

Q.15 फुटबॉल खिलाड़ी चुन्नी गोस्वामी, जिनका अप्रैल 2020 में निधन हो गया, वे राष्ट्रीय स्तर के भूतपूर्व _____ भी थे।

- Ans 1. तैराक
 2. निशानेबाज़
 3. क्रिकेट खिलाड़ी
 4. गोल्फ खिलाड़ी

Question ID : 8161616507

Status : Not Answered

Chosen Option : --

Q.16 साहित्य अकादमी पुरस्कार विजेता और लेखक देवेश राँय, जिनका मई 2020 में निधन हो गया, वे _____ भाषा में अपनी कृतियों के लिए जाने जाते हैं।

- Ans
- 1. गुजराती
 - 2. हिंदी
 - 3. असमिया
 - 4. बंगाली

Question ID : 8161616508

Status : Not Answered

Chosen Option : --

Q.17 पी.एम. स्वनिधि नामक योजना के लिए लक्षित समूह निम्नलिखित में से कौन सा है?

- Ans
- 1. भूमिहीन खेतिहर मज़दूर
 - 2. रेहड़ी वाले
 - 3. सीमांत किसान
 - 4. दुग्ध उत्पादक

Question ID : 8161616514

Status : Answered

Chosen Option : 2

Q.18 भारतीय अर्थव्यवस्था में नकदी का प्रबंधन निम्नलिखित में से किसके द्वारा किया जाता है?

- Ans
- 1. भारतीय प्रतिभूति एवं विनिमय बोर्ड
 - 2. भारतीय बैंक संघ
 - 3. भारतीय रिज़र्व बैंक
 - 4. केंद्रीय वित्त मंत्रालय



Studytosuccess.in

Question ID : 8161616518

Status : Answered

Chosen Option : 3

Q.19 निम्नलिखित में से किस फसल की आनुवंशिक रूप से संवर्धित किस्म को भारत में उगाने की अनुमति है?

- Ans
- 1. करेला
 - 2. बैंगन
 - 3. कपास
 - 4. लौकी

Question ID : 8161616537

Status : Not Answered

Chosen Option : --

Q.20 भारत के संविधान के निम्नलिखित में से किस अनुच्छेद में यह उल्लेख किया गया है, कि राज्य ग्राम पंचायतों को संगठित करने के लिए क़दम उठाएंगे?

- Ans
- 1. अनुच्छेद 48
 - 2. अनुच्छेद 36
 - 3. अनुच्छेद 34
 - 4. अनुच्छेद 40

Question ID : 8161616522
Status : Answered
Chosen Option : 4

Q.21 भारत का निम्नलिखित में से कौन सा समुद्र तट, अरब सागर का नहीं है?

- Ans
- 1. वर्कला बीच
 - 2. राधानगर बीच
 - 3. पालोलेम बीच
 - 4. कोवलम बीच

Question ID : 8161616538
Status : Answered
Chosen Option : 2

Q.22 यीस्ट में अवायवीय श्वसन के दौरान निम्नलिखित में से कौन से उत्पाद बनते हैं?

- Ans
- 1. लैक्टिक अम्ल + ऊर्जा
 - 2. लैक्टिक अम्ल + कार्बन डाईऑक्साइड + ऊर्जा
 - 3. इथेनॉल + कार्बन डाईऑक्साइड + ऊर्जा
 - 4. एसिटिक अम्ल + ऊर्जा

Question ID : 8161616531
Status : Not Answered
Chosen Option : --

Q.23 जिस दर पर किसी देश का केंद्रीय बैंक अपने क्षेत्र में वाणिज्यिक बैंकों से धन उधार लेता है, उसे निम्नलिखित में से क्या कहा जाता है?

- Ans
- 1. रिवर्स रेपो दर
 - 2. द्वितीयक ऋण दर
 - 3. रेपो दर
 - 4. प्राथमिक ऋण दर

Question ID : 8161616517
Status : Answered
Chosen Option : 1

Q.24 मानव तंत्रिका तंत्र के संदर्भ में, तंत्रिका कोशिका का निम्नलिखित में से कौन सा भाग सूचनाएँ प्राप्त करता है?

- Ans
- 1. अक्षतंतु (एग्ज़ोन)
 - 2. तंत्रिका छोर
 - 3. द्रुमाश्रम (डेंड्राइट)
 - 4. सूत्र कणिका (माइटोकॉन्ड्रिया)

Question ID : 8161616530

Status : Not Answered

Chosen Option : --

Q.25 निम्नलिखित में से कौन भारत के द्वितीय उपराष्ट्रपति थे?

- Ans
- 1. वी.वी. गिरि
 - 2. ज़ाकिर हुसैन
 - 3. बी.डी. जत्ती
 - 4. गोपाल स्वरूप पाठक

Question ID : 8161616525

Status : Answered

Chosen Option : 2

Q.26 अलेग्ज़ेंडर डेलरिपल पुरस्कार निम्नलिखित में से किस देश के जलमाप कार्यालय (Hydrographic Office) द्वारा प्रदान किया जाता है?

- Ans
- 1. फ़्रांस
 - 2. नॉर्वे
 - 3. यू.के. (UK)
 - 4. यू.एस. (US)



Studytosuccess.in

Question ID : 8161616513

Status : Not Answered

Chosen Option : --

Q.27 निम्नलिखित में से किसने यूनाइटेड नेशन्स मिलिट्री जेंडर एडवोकेट ऑफ़ द इयर पुरस्कार (2019) प्राप्त किया?

- Ans
- 1. तारिका नाथ
 - 2. माधवी थम्पी
 - 3. नीरजा भट्ट
 - 4. सुमन गोस्वामी

Question ID : 8161616509

Status : Not Answered

Chosen Option : --

Q.28 'वर्ण परिचय' नामक पुस्तक निम्नलिखित में से किसने लिखी है?

- Ans
- 1. देबेंद्रनाथ टैगोर
 - 2. रबींद्रनाथ टैगोर
 - 3. राममोहन राय
 - 4. ईश्वरचंद्र विद्यासागर

Question ID : 8161616544

Status : Not Answered

Chosen Option : --

Q.29 जुलाई 2020 में, केंद्र सरकार ने 'प्रेरक दौर सम्मान' नामक एक नया पुरस्कार प्रारंभ करने की घोषणा की। यह पुरस्कार निम्नलिखित में से किस क्षेत्र से संबंधित है?

- Ans
- 1. जैविक खेती
 - 2. स्वच्छता
 - 3. कौशल विकास
 - 4. प्रौढ़ साक्षरता

Question ID : 8161616512

Status : Answered

Chosen Option : 3

Q.30 1946 में अंतरिम सरकार में रक्षा मंत्री के रूप में निम्नलिखित में से किसे नियुक्त किया गया था?

- Ans
- 1. बलदेव सिंह
 - 2. आसफ़ अली
 - 3. सी. राजगोपालाचारी
 - 4. वल्लभभाई पटेल



Studytosuccess.in

Question ID : 8161616546

Status : Answered

Chosen Option : 1

Q.31 प्राचीनकालीन लाड खान नामक मंदिर निम्नलिखित में से किस स्थान पर स्थित है?

- Ans
- 1. सांची
 - 2. एलोरा
 - 3. एलीफेंटा
 - 4. ऐहोल

Question ID : 8161616499

Status : Not Answered

Chosen Option : --

Q.32 भारत के निम्नलिखित में से किस वॉयसराय द्वारा की गई घोषणा को 'अगस्त प्रस्ताव' कहा जाता है?

- Ans
- 1. लॉर्ड रीडिंग
 - 2. लॉर्ड विलिंगडन
 - 3. लॉर्ड लिनलिथगो
 - 4. लॉर्ड चेम्सफ़ोर्ड

Question ID : 8161616547

Status : Answered

Chosen Option : 2

Q.33 भारतीय कृषि के संदर्भ में, 'बेवर', 'दहिया' और 'पोडु' शब्द निम्नलिखित में से किसके स्थानीय नाम हैं?

- Ans
- 1. भैंस की प्रजातियाँ
 - 2. मृदा की किस्में
 - 3. खेती का आदिम स्वरूप
 - 4. गाय की प्रजातियाँ

Question ID : 8161616539

Status : Answered

Chosen Option : 3

Q.34 निम्नलिखित में से कौन सा स्तनपायी जीव, रेशे (फ़ाइबर) का एक सामान्य स्रोत नहीं है?

- Ans
- 1. लामा
 - 2. अलपाका
 - 3. अंगोरा बकरी
 - 4. ज़ेबरा



Studytosuccess.in

Question ID : 8161616532

Status : Answered

Chosen Option : 4

Q.35 निम्नलिखित में से कौन सी ग्रंथि, मानवों में शारीरिक विकास को विनियमित करने वाला हॉर्मोन स्रावित करती है?

- Ans
- 1. बाल्यग्रंथि (थाइमस)
 - 2. पराअवटु (पैराथाइरॉइड)
 - 3. पीयूष (पिट्यूटरी)
 - 4. अधिवृक्क (एड्रीनल)

Question ID : 8161616529

Status : Not Answered

Chosen Option : --

Q.36 'पावल कुट' नामक जनजातीय पर्व पारंपरिक रूप से निम्नलिखित में से किस राज्य से संबंधित है?

- Ans
- 1. ओड़िशा
 - 2. सिक्किम
 - 3. मिज़ोरम
 - 4. राजस्थान

Question ID : 8161616502
Status : Answered
Chosen Option : 1

Q.37 धमेख स्तूप निम्नलिखित में से किस राज्य में स्थित है?

- Ans
- 1. ओड़िशा
 - 2. गुजरात
 - 3. कर्नाटक
 - 4. उत्तर प्रदेश

Question ID : 8161616500
Status : Answered
Chosen Option : 1

Q.38 1993 में, निम्नलिखित में से कौन दिल्ली की राष्ट्रीय राजधानी क्षेत्र के प्रथम मुख्यमंत्री बने?

- Ans
- 1. साहिब सिंह वर्मा
 - 2. सुषमा स्वराज
 - 3. मदन लाल खुराना
 - 4. शीला दीक्षित



Studytosuccess.in

Question ID : 8161616526
Status : Answered
Chosen Option : 4

Q.39 भारत के संविधान में, निम्नलिखित में से किस संशोधन द्वारा केंद्रीय मंत्रिमंडल में मंत्रियों की संख्या की एक सीमा निर्धारित की गई है?

- Ans
- 1. 69 वें
 - 2. 83 वें
 - 3. 74 वें
 - 4. 91 वें

Question ID : 8161616523
Status : Answered
Chosen Option : 4

Q.40 सितंबर 2020 में जारी मूडीज़ पूर्वानुमान (Moody's forecast) के अनुसार, वित्तीय वर्ष 2021-22 के दौरान भारतीय अर्थव्यवस्था की वृद्धि दर _____ रहेगी।

- Ans
- 1. 8.8%
 - 2. 9.8%
 - 3. 10.6%
 - 4. 8.5%

Question ID : 8161616516

Status : Not Answered

Chosen Option : --

Q.41 जून 2020 में विश्व बैंक द्वारा जारी अनुमानों के अनुसार, भारत की अर्थव्यवस्था में वित्तीय वर्ष 2020-21 के दौरान _____ की गिरावट होने की संभावना है।

- Ans
- 1. 2.1%
 - 2. 3.2%
 - 3. 4.1%
 - 4. 3.7%

Question ID : 8161616515

Status : Answered

Chosen Option : 2

Q.42 पुरुष विश्व मुक्केबाज़ी चैम्पियनशिप 2021 की मेज़बानी का अधिकार भारत के बजाय निम्नलिखित में से किस देश को दिया गया है?

- Ans
- 1. यू.एस. (US)
 - 2. फ़्रांस
 - 3. रूस
 - 4. सर्बिया



Studytosuccess.in

Question ID : 8161616504

Status : Not Answered

Chosen Option : --

Q.43 जनवरी 2020 में सरस्वती सम्मान के लिए चयनित प्रतिष्ठित लेखक और कवि वासदेव मोही _____ भाषा में अपनी कृतियों के लिए जाने जाते हैं।

- Ans
- 1. तमिल
 - 2. मलयालम
 - 3. बांग्ला
 - 4. सिंधी

Question ID : 8161616511

Status : Answered

Chosen Option : 2

Q.44 निम्नलिखित में से किस वर्ष में बाल गंगाधर तिलक के नेतृत्व में, कांग्रेस के अलग हुए गुट फिर से एक हो गए थे?

- Ans 1. 1915
 2. 1916
 3. 1917
 4. 1918

Question ID : 8161616545
 Status : Answered
 Chosen Option : 2

Q.45 'मड़ई' नामक जनजातीय पर्व पारंपरिक रूप से निम्नलिखित में से किस राज्य से संबंधित है?

- Ans 1. तमिलनाडु
 2. छत्तीसगढ़
 3. हिमाचल प्रदेश
 4. त्रिपुरा

Question ID : 8161616498
 Status : Answered
 Chosen Option : 2

Q.46 'येमशे' नामक जनजातीय पर्व पारंपरिक रूप से _____ से संबंधित है?

- Ans 1. झारखंड
 2. गुजरात
 3. नागालैंड
 4. अंडमान और निकोबार द्वीप समूह



Studytosuccess.in

Question ID : 8161616503
 Status : Not Answered
 Chosen Option : --

Q.47 भारत में साइमन कमीशन निम्नलिखित में से किस वर्ष में आया था?

- Ans 1. 1925
 2. 1923
 3. 1919
 4. 1928

Question ID : 8161616540
 Status : Answered
 Chosen Option : 4

Q.48 अगस्त 2020 तक की स्थिति के अनुसार, निम्नलिखित में से किसे रेमन मैग्सेसे पुरस्कार प्राप्त नहीं हुआ है?

- Ans 1. प्रशांत भूषण
 2. अरविंद केजरीवाल
 3. किरण बेदी
 4. अरुण शौरी

Question ID : 8161616510
 Status : Answered
 Chosen Option : 2

Q.49 मई 2020 में अंतरराष्ट्रीय क्रिकेट परिषद् (आई.सी.सी.) द्वारा टीमों की रैंकिंग की पुनः समीक्षा करने के बाद, टेस्ट रैंकिंग में निम्नलिखित में से किस टीम ने दूसरा स्थान प्राप्त किया है?

- Ans 1. इंग्लैंड
 2. वेस्ट इंडीज़
 3. दक्षिण अफ्रीका
 4. न्यूज़ीलैंड

Question ID : 8161616505
 Status : Not Answered
 Chosen Option : --

Q.50 भारत के संविधान के अनुच्छेद 106 के अनुसार, संसद के दोनों सदनों के सदस्यों का वेतन निम्नलिखित में से किसके द्वारा निर्धारित किया जाता है?

- Ans 1. वित्त आयोग
 2. भारत के राष्ट्रपति
 3. संसद
 4. केंद्रीय वित्त मंत्रालय



Studytosuccess.in

Question ID : 8161616524
 Status : Answered
 Chosen Option : 3

Section : Part B- Reasoning

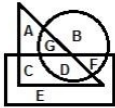
Q.1 निम्नांकित चार आकृतियों में से तीन में एक निश्चित प्रकार की समानता है और एक असंगत है। उस असंगत आकृति का चयन कीजिए।



- Ans
- 1. 2
 - 2. 4
 - 3. 1
 - 4. 3

Question ID : 8161616557
Status : Answered
Chosen Option : 4

Q.2 निम्नांकित वेन आरेख में, 'आयत' 'किसानों' को निरूपित करता है, 'वृत्त' 'ज़मींदारों' को निरूपित करता है और 'त्रिभुज' 'मवेशी-पालकों' को निरूपित करता है। दिए गए अक्षर उस विशिष्ट वर्ग में लोगों के समूहों को निरूपित करते हैं। निम्न में से कौन सा विकल्प उन किसानों के समूह को निरूपित करता है जिनके पास मवेशी हैं, लेकिन भूमि नहीं है?



- Ans
- 1. C
 - 2. D
 - 3. F
 - 4. G



Question ID : 8161616572
Status : Answered
Chosen Option : 1

Q.3 गणितीय चिहनों के उस संयोजन का चयन कीजिए जिसे निम्न समीकरण में * के स्थान पर बाएं से दाएं क्रमिक रूप से रखने पर यह संतुलित हो जाएगा।

$$24 * 6 * 32 * 4 * 2 * 28$$

- Ans
- 1. ÷, -, ×, +, =
 - 2. ×, -, ÷, +, =
 - 3. ÷, +, -, ×, =
 - 4. +, ÷, ×, -, =

Question ID : 8161616555
Status : Answered
Chosen Option : 3

Q.4 उस विकल्प आकृति का चयन कीजिए जो दी गई आकृति में प्रश्नवाचक चिह्न (?) के स्थान पर आएगी और

पैटर्न को पूर्ण करेगी।



Ans



Question ID : 8161616563

Status : Answered

Chosen Option : 4

Q.5 विशाल ने रवि से X धनराशि 8% वार्षिक ब्याज दर पर एक वर्ष के लिए उधार ली। वह उधार ली गई

धनराशि पर वार्षिक रूप से ₹2,240 का ब्याज का भुगतान करता है। X का मान ज्ञात कीजिए।

Ans ✗ 1. ₹32,000

✗ 2. ₹34,600

✗ 3. ₹34,000

✓ 4. ₹28,000



Studytosuccess.in

Question ID : 8161616556

Status : Answered

Chosen Option : 4

Q.6 उस विकल्प का चयन कीजिए जिसमें दी गई आकृति (X) अंतर्निहित है (घुमाने की अनुमति नहीं है)।



Ans

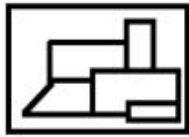
✗ 1.



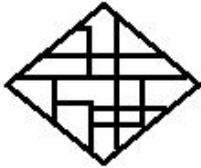
✓ 2.



✗ 3.



✗ 4.



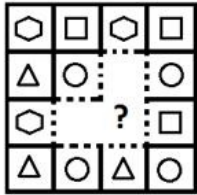
Studytosuccess.in

Question ID : 8161616567

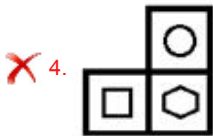
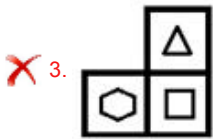
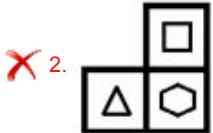
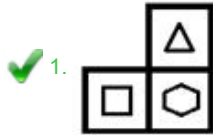
Status : Answered

Chosen Option : 2

Q.7 उस विकल्प आकृति का चयन कीजिए जो दिए गए निम्नांकित पैटर्न को पूर्ण करेगी।



Ans



Studytosuccess.in

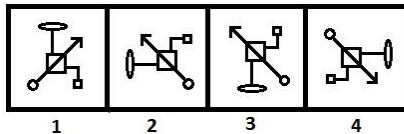
Question ID : 8161616564

Status : Answered

Chosen Option : 1

Q.8 निम्नांकित चार आकृतियों में से तीन में एक निश्चित प्रकार की समानता है और एक असंगत है। उस असंगत आकृति

का चयन कीजिए।



Ans ✗ 1. 2

✓ 2. 3

✗ 3. 4

✗ 4. 1

Question ID : 8161616558

Status : Answered

Chosen Option : 2

Q.9 निम्नांकित चार अक्षर-समूहों में से तीन के मध्य एक निश्चित प्रकार की समानता है और एक असंगत है।
उस असंगत अक्षर-समूह का चयन कीजिए।

- Ans
- 1. PTXBF
 - 2. KORVA
 - 3. NRVZD
 - 4. TXBFJ

Question ID : 8161616549
Status : Answered
Chosen Option : 2

Q.10 उस विकल्प का चयन कीजिए जिसके आकृति-युग्म के मध्य वही संबंध है जो दिए गए प्रश्न आकृति-युग्म के मध्य है।



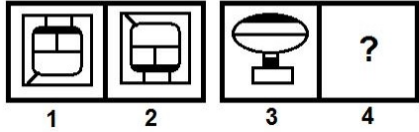
Problem Figures

Ans

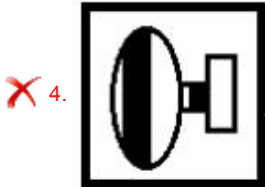
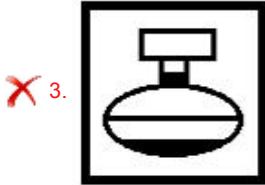
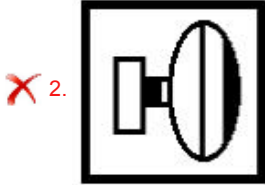
- 1.
- 2.
- 3.
- 4.

Question ID : 8161616560
Status : Answered
Chosen Option : 2

Q.11 उस विकल्प आकृति का चयन कीजिए जिसका तीसरी आकृति से वही संबंध है, जो दूसरी आकृति का पहली आकृति से है।



Ans



Studytosuccess.in

Question ID : 8161616559

Status : Answered

Chosen Option : 1

Q.12 दिए गए पैटर्न का ध्यानपूर्वक अध्ययन करें और उस संख्या का चयन करें जो इसमें प्रश्नवाचक चिह्न (?) के स्थान पर आएगी?

5	12	65
7	14	105
9	13	?

Ans ✗ 1. 102

✗ 2. 135

✗ 3. 120

✓ 4. 126

Question ID : 8161616554

Status : Answered

Chosen Option : 4

Q.13 यदि दर्पण को निम्नांकित चित्र के अनुसार 'PQ' पर रखा जाए, तो दर्पण में निर्मित सही प्रतिबिंब का चयन कीजिए।

6 4 2 1 H $\begin{array}{c} P \\ | \\ Q \end{array}$

- Ans
- ✓ 1. H 1 2 4 6
- ✗ 2. H 1 2 4 6
- ✗ 3. H 1 2 4 6
- ✗ 4. H 1 2 4 9

Question ID : 8161616565

Status : Answered

Chosen Option : 1

Q.14 निम्न श्रेणी में प्रश्नवाचक चिह्न (?) के स्थान पर दिए गए विकल्पों में से कौन सी संख्या आएगी?

45, 72, 101, 133, 169, ?

- Ans
- ✗ 1. 209
- ✗ 2. 193
- ✗ 3. 222
- ✓ 4. 210



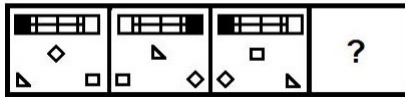
Studytosuccess.in

Question ID : 8161616551

Status : Answered

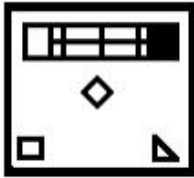
Chosen Option : 4

Q.15 उस विकल्प आकृति का चयन कीजिए जो निम्नांकित आकृति श्रृंखला में प्रश्नवाचक चिह्न (?) के स्थान पर आएगी।

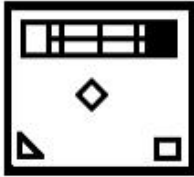


Ans

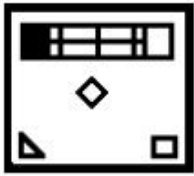
✗ 1.



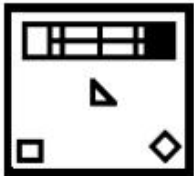
✓ 2.



✗ 3.



✗ 4.



Studytosuccess.in

Question ID : 8161616561

Status : Answered

Chosen Option : 2

Q.16 निम्न श्रेणी में प्रश्नवाचक चिह्न (?) के स्थान पर दिए गए विकल्पों में से कौन सी संख्या आएगी?

19, 43, 90, 183, 368, ?

Ans

✗ 1. 725

✗ 2. 719

✓ 3. 737

✗ 4. 645

Question ID : 8161616552

Status : Answered

Chosen Option : 3

Q.17 उस विकल्प का चयन कीजिए जिसका तीसरे शब्द से वही संबंध है, जो दूसरे शब्द का पहले शब्द से है।

कायर : बहादुर :: पारंपरिक : ?

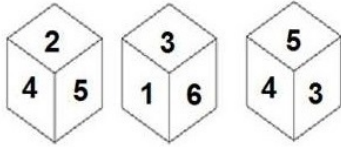
- Ans
- 1. प्रगति
 - 2. आधुनिक
 - 3. संस्कृति
 - 4. राष्ट्रीय

Question ID : 8161616548

Status : Answered

Chosen Option : 2

Q.18 एक पासे की तीन भिन्न-भिन्न स्थितियां दर्शाई गई हैं, जिसके छः फलकों पर 1 से 6 तक की संख्याओं में से कोई एक संख्या अंकित है। '2' दर्शाने वाले फलक के विपरीत फलक पर कौन सी संख्या होगी?



- Ans
- 1. 4
 - 2. 1
 - 3. 3
 - 4. 6



Studytosuccess.in

Question ID : 8161616570

Status : Answered

Chosen Option : 3

Q.19 उस विकल्प का चयन कीजिए जिसका तीसरी संख्या से वही संबंध है, जो दूसरी संख्या का पहली संख्या से है।

12 : 149 :: 21 : ?

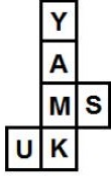
- Ans
- 1. 446
 - 2. 219
 - 3. 406
 - 4. 441

Question ID : 8161616553

Status : Answered

Chosen Option : 1

Q.20 दी गई शीट को मोड़कर एक घन बनाया जाता है। इस तरह निर्मित घन में, विकल्पों में से कौन सा अक्षर युग्म विपरीत फलकों पर होगा?



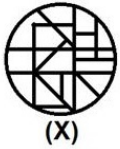
- Ans
- ✓ 1. K और A
 - ✗ 2. Y और S
 - ✗ 3. Y और K
 - ✗ 4. U और A

Question ID : 8161616569

Status : Answered

Chosen Option : 1

Q.21 उस विकल्प आकृति का चयन कीजिए जो नीचे दी गई आकृति (X) में अंतर्निहित है (घुमाने की अनुमति नहीं है)।



- Ans
- ✗ 1.
 - ✗ 2.
 - ✗ 3.
 - ✓ 4.



Studytosuccess.in

Question ID : 8161616568

Status : Answered

Chosen Option : 4

Q.22 एक कूट भाषा में, 'PROVEN' को 'PSQOFW' लिखा जाता है। उसी भाषा में 'MONGER' को क्या लिखा जाएगा?

- Ans
- 1. OPNSFH
 - 2. TGOHPN
 - 3. OPNSLJ
 - 4. SFHPOR





Question ID : 8161616550

Status : Answered

Chosen Option : 1

Q.23 उस वेन आरेख का चयन कीजिए जो निम्नांकित वर्गों के मध्य संबंध का सर्वश्रेष्ठ निरूपण करता है।

सर्जन, डॉक्टर, प्लंबर

- Ans
- 1. 
 - 2. 
 - 3. 
 - 4. 



Studytosuccess.in

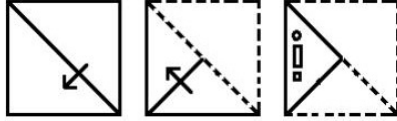
Question ID : 8161616571

Status : Answered

Chosen Option : 2

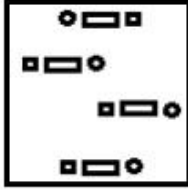
Q.24 एक कागज को निम्नांकित चित्र के अनुसार मोड़ा और काटा गया है। इस कागज को खोलने पर यह कैसा

दिखाई देगा?

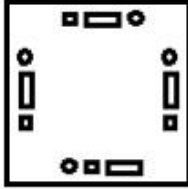


Ans

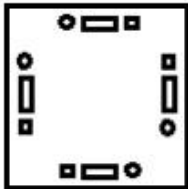
✗ 1.



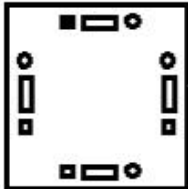
✗ 2.



✓ 3.



✗ 4.



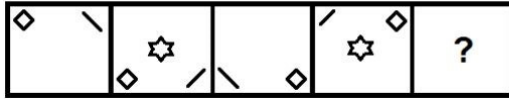
Studytosuccess.in

Question ID : 8161616566

Status : Answered

Chosen Option : 3

Q.25 उस विकल्प आकृति का चयन कीजिए जो निम्नांकित आकृति श्रृंखला में प्रश्नवाचक चिह्न (?) के स्थान पर आएगी।

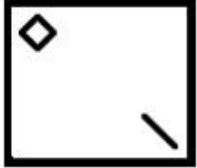


Ans

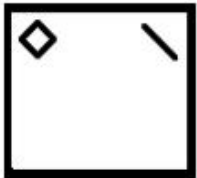
1.



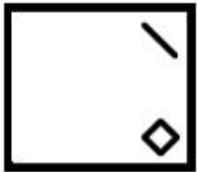
2.



3.



4.



Studytosuccess.in

Question ID : 8161616562

Status : Answered

Chosen Option : 3

Section : Part C- Numerical Ability

Q.1 A किसी काम को 40 दिनों में और B उसी काम को 50 दिनों में कर सकता है। उन्होंने एक साथ मिलकर 5 दिनों तक काम किया, लेकिन फिर बाद B ने काम छोड़ दिया। शेष काम को A अकेले कितने दिनों में पूरा कर लेगा?

Ans 1. 41

2. 33

3. 31

4. 40

Question ID : 8161616584

Status : Answered

Chosen Option : 3

Q.2 यदि साधारण ब्याज की वार्षिक दर 9% से बढ़कर $13\frac{1}{2}\%$ हो जाती है, तो वार्षिक ब्याज ₹3,690 बढ़ जाता है। मूल धनराशि (₹ में) कितनी होगी?

- Ans
- 1. 80,000
 - 2. 85,000
 - 3. 82,000
 - 4. 88,000

Question ID : 8161616582
Status : Answered
Chosen Option : 3

Q.3 एक महिला को मंदिर तक पैदल जाने और वहाँ से सवारी से वापस आने में 3 घंटे 20 मिनट का समय लगता है। यदि वह दोनों ओर के लिए सवारी का प्रयोग करती, तो उसे 2 घंटे कम समय लगता। यदि वह दोनों ओर पैदल चलती तो उसके द्वारा लिए जाने वाले समय का आधा समय कितना होता?

- Ans
- 1. 3 घंटे 20 मिनट
 - 2. 2 घंटे 50 मिनट
 - 3. 3 घंटे 10 मिनट
 - 4. 2 घंटे 40 मिनट

Question ID : 8161616585
Status : Answered
Chosen Option : 4

Q.4 दो संख्याओं का गुणनफल 9216 है। जब बड़ी संख्या को छोटी संख्या से विभाजित किया जाता है, तो भागफल 16 और शेषफल शून्य प्राप्त होता है। उन संख्याओं के बीच अंतर क्या है?

- Ans
- 1. 408
 - 2. 384
 - 3. 380
 - 4. 360

Question ID : 8161616574
Status : Answered
Chosen Option : 4

Q.5 यदि $(x + y - z) : (y - z + 2w) : (2x + z - w) = 2 : 3 : 1$ है, तो $(5w - 3x - z) : 3w$ का अनुपात क्या होगा?

- Ans
- 1. 5 : 2
 - 2. 5 : 3
 - 3. 2 : 3
 - 4. 4 : 3

Question ID : 8161616581
Status : Not Answered
Chosen Option : --

Q.6 एक धनराशि अर्धवार्षिक रूप से चक्रवृद्धि किए जाने वाली 10% वार्षिक ब्याज दर पर एक वर्ष के अंत में ₹20,947.50 हो जाती है, उसी धनराशि पर, पहले की तिगुनी ब्याज दर पर $4\frac{2}{5}$ वर्षों में प्राप्त होने वाला साधारण ब्याज कितना (₹ में) होगा?

- Ans
- 1. 24,020
 - 2. 26,500
 - 3. 25,080
 - 4. 27,000

Question ID : 8161616583
Status : Answered
Chosen Option : 3

Q.7 दो छात्रों A और B को पुरस्कार राशि के रूप में कुल ₹4,400 का भुगतान किया गया। यदि A को, B को भुगतान की गयी राशि का 120 प्रतिशत भुगतान किया गया, तो B को कितनी राशि (₹ में) का भुगतान किया गया?

- Ans
- 1. 2,400
 - 2. 2,000
 - 3. 1,800
 - 4. 1,500

Question ID : 8161616578
Status : Answered
Chosen Option : 2



Q.8 एक वस्तु के अंकित मूल्य पर 15%, 20% और 18% की तीन क्रमिक छूटें देने के बाद उसे ₹2,230.40 में बेचा जाता है। उस वस्तु का अंकित मूल्य (₹ में) क्या है?

- Ans
- 1. 4,000
 - 2. 3,500
 - 3. 4,250
 - 4. 3,750

Question ID : 8161616577
Status : Answered
Chosen Option : 1

Q.9 किसी वस्तु पर प्राप्त लाभ उसकी लागत का 120% है। यदि उसकी लागत 25% बढ़ा दी जाये और विक्रय मूल्य को नियत रखा जाये, तो प्राप्त होने वाला लाभ विक्रय मूल्य का कितने प्रतिशत होगा (निकटतम पूर्णांक तक सही)?

- Ans
- 1. 51%
 - 2. 47%
 - 3. 43%
 - 4. 39%

Question ID : 8161616580
Status : Answered
Chosen Option : 3

Q.10 0.529 और 2.01 का गुणनफल 1 से कितना अधिक होगा?

- Ans
- 1. 0.03269
 - 2. 0.09326
 - 3. 0.06329
 - 4. 0.02369

Question ID : 8161616575
Status : Answered
Chosen Option : 3

Q.11 एक गाय 25 m लंबी भुजा वाले एक वर्गाकार घास के मैदान के एक कोने में खूटे से बंधी है। रस्सी की लंबाई 14 m है। मैदान के उस भाग का क्षेत्रफल (m^2 में) बताइए जिसमें गाय घास चर सकती है? ($\pi = \frac{22}{7}$ का प्रयोग कीजिए)

- Ans
- 1. 154
 - 2. 77
 - 3. 142
 - 4. 100

Question ID : 8161616586
Status : Answered
Chosen Option : 1

Q.12 पांच मित्रों का औसत मासिक वेतन ₹62,000 है। पांच मित्रों में से एक, सुरेंद्र की पदोन्नति हो गई और उसके वेतन में वृद्धि हो गई। यदि उनके वेतनों का नया औसत ₹64,250 है, तो सुरेंद्र के मासिक वेतन में कितनी वृद्धि हुई है?

- Ans
- 1. ₹73,250
 - 2. ₹12,150
 - 3. ₹11,250
 - 4. ₹14,250

Question ID : 8161616576
Status : Answered
Chosen Option : 3

Q.13 एक व्यक्ति अपनी मासिक आय का 22% घर के किराये में, 40% घरेलू खर्चों और राशन पर, और शेष आय का 50% बच्चों की शिक्षा और अन्य मदों पर खर्च करता है। यदि उसकी मासिक बचत ₹3,800 है, तो शिक्षा और अन्य मदों पर किया जाने वाला खर्च (₹ में) कितना है?

- Ans
- 1. 1,900
 - 2. 5,600
 - 3. 3,800
 - 4. 2,700

Question ID : 8161616579
Status : Answered
Chosen Option : 3

Q.14 24.5 cm × 16.5 cm × 12 cm की विमाओं वाले लोहे के एक घनाभ को पिघलाकर एक ठोस गोला बनाया जाता है। गोले की त्रिज्या (cm में) कितनी होगी? ($\pi = \frac{22}{7}$ का प्रयोग कीजिए)

- Ans
- 1. 12.5
 - 2. 11
 - 3. 10.5
 - 4. 8

Question ID : 8161616587
Status : Answered
Chosen Option : 3

Q.15 वह छोटी से छोटी कौन सी संख्या है जिसे 3432 में जोड़ने पर प्राप्त योगफल 10, 5, 4 और 2 से पूर्णतः विभाजित हो जाए?

- Ans
- 1. 10
 - 2. 5
 - 3. 6
 - 4. 8

Question ID : 8161616573
Status : Answered
Chosen Option : 4

Section : Part D- Computer Proficiency

Studytosuccess.in

Q.1 MS Excel वर्कबुक 2007 में, डिफॉल्ट रूप से कितनी वर्कशीट होती हैं?

- Ans
- 1. 2
 - 2. 1
 - 3. 4
 - 4. 3

Question ID : 8161616588
Status : Answered
Chosen Option : 2

Q.2 MS Word 2007 में, 36 पॉइंट का फॉन्ट साइज, कितने इंच के बराबर होता है?

- Ans
- 1. 1
 - 2. 0.125
 - 3. 0.5
 - 4. 0.25

Question ID : 8161616594
Status : Not Answered
Chosen Option : --

Q.3 MS Word 2007 में, निम्नलिखित में से कौन सा, मेनू बार का एक विकल्प नहीं है?

- Ans
- 1. इन्सर्ट
 - 2. होम
 - 3. इंटरनेट
 - 4. पेज ले-आउट

Question ID : 8161616593
Status : Answered
Chosen Option : 3

Q.4 निम्नलिखित में से कौन सी, इंटरनेट सेवा प्रदाता (Internet Service Provider) द्वारा प्रदान की जाने वाली सेवा नहीं है?

- Ans
- 1. इंटरनेट एक्सेस
 - 2. वेब प्रशासन
 - 3. डोमेन नाम पंजीकरण
 - 4. डायल-अप एक्सेस

Question ID : 8161616596
Status : Answered
Chosen Option : 3

Q.5 वेब ब्राउज़र और उनके विक्रेताओं के संदर्भ में दिए गए विकल्पों में से कौन सा विकल्प, सूची-1 के मदों का सूची-2 के मदों के साथ सबसे अच्छा मिलान करता है?

सूची-1 सूची-2

- (i) इंटरनेट एक्सप्लोरर (a) मोज़िला फाउंडेशन
(ii) सफ़ारी (b) माइक्रोसॉफ्ट
(iii) सी मंकी (c) एप्पल



Studytosuccess.in

- Ans
- 1. (i)-(a),(ii)-(c),(iii)-(b)
 - 2. (i)-(b),(ii)-(c),(iii)-(a)
 - 3. (i)-(a),(ii)-(b),(iii)-(c)
 - 4. (i)-(b),(ii)-(a),(iii)-(c)

Question ID : 8161616597
Status : Answered
Chosen Option : 2

Q.6 एक स्प्रेडशीट में सेल को एडिट करने के संदर्भ में, दिए गए विकल्पों में से कौन सा विकल्प सूची-1 के मदों का सूची-2 के मदों के साथ सबसे अच्छा मिलान करता है?

सूची-1 सूची-2

- (i) Enter (a) आपको दाईं ओर अगले सेल में ले जाता है
 (ii) Shift+Tab (b) आपको नीचे अगले सेल में ले जाता है
 (iii) Tab (c) आपको एरो की दिशा में ले जाता है
 (iv) Arrow key (d) आपको बाईं ओर अगले सेल में ले जाता है

- Ans 1. (i)-b (ii)-d (iii)-a (iv)-c
 2. (i)-c (ii)-d (iii)-a (iv)-b
 3. (i)-b (ii)-a (iii)-d (iv)-c
 4. (i)-a (ii)-d (iii)-b (iv)-c

Question ID : 8161616589

Status : Answered

Chosen Option : 1

Q.7 MS Word 2007 में किसी टेबल में, निम्नलिखित में से कौन सा सेल अलाइनमेंट (सेल को संरेखित करने) का एक विकल्प नहीं है?

- Ans 1. अलाइन एक्रॉस (Align across)
 2. अलाइन बॉटम राइट (Align bottom right)
 3. अलाइन सेंटर (Align center)
 4. अलाइन टॉप लेफ्ट (Align top left)

Question ID : 8161616592

Status : Answered

Chosen Option : 1



Study to success

Q.8 निम्नलिखित में से कौन सा, MS Excel 2007 का टेक्स्ट फंक्शन नहीं है?

- Ans 1. RIGHT
 2. MID
 3. COMBIN
 4. LEFT

Question ID : 8161616590

Status : Answered

Chosen Option : 3

Q.9 MS Word 2007 में, टेबल-प्रॉपर्टीज के बॉर्डर और शेडिंग विकल्प का उपयोग, निम्नलिखित में से किसे अप्लाइ करने के लिए किया जा सकता है?

- Ans 1. ओरिएंटेशन
 2. मेलिंग
 3. बॉर्डर
 4. मार्जिन

Question ID : 8161616591

Status : Answered

Chosen Option : 3

Q.10 निम्नलिखित में से कौन सा, एक वैध ई-मेल एड्रेस नहीं है?

- Ans
- 1. email@domain.com
 - 2. 1234567890@domain.com
 - 3. email.@domain.com
 - 4. _____@domain.com

Question ID : **8161616595**

Status : **Answered**

Chosen Option : **3**



Constable Executive Male and Female in Delhi Police Examination 2020

Roll Number	
Candidate Name	
Venue Name	i-Tech Zone
Exam Date	27/11/2020
Exam Time	12:30 PM - 2:00 PM
Subject	Constable in Delhi Police Exam 2020



STUDYTOSUCCESS

Section : Part A- General Knowledge or Current Affairs

Q.1 मानवता हेतु गुलबेकियन पुरस्कार 2020 _____ को प्रदान किया गया था।

- Ans
- 1. जेमी मार्गोलिन
 - 2. ग्रेटा थुनबर्ग
 - 3. मलाला युसुफज़ई
 - 4. यारा शाहीदी

Question ID : 6549782872

Status : Answered

Chosen Option : 3

Q.2 भारतीय जनगणना 2011 में, जनसंख्या में हुई प्रतिशत वृद्धि 2001 की तुलना में लगभग _____% प्रदर्शित हुई थी।

- Ans
- 1. 11.5
 - 2. 23.5
 - 3. 17.5
 - 4. 5.5



Studytosuccess.in

Question ID : 6549782898

Status : Answered

Chosen Option : 1

Q.3 निम्नलिखित में से कौन सा कथन गलत है?

- Ans
- 1. रेतीली मृदा में पानी की रिसाव दर सबसे अधिक और चिकनी मृदा में सबसे कम होती है।
 - 2. चिकनी और दोमट मृदाएं, गेहूं, चना और धान उगाने के लिए उपयुक्त होती हैं।
 - 3. कपास रेतीली दोमट मृदा में उगाई जाती है।
 - 4. दोमट मृदा का उपयोग घट, खिलौने और मूर्तियाँ बनाने के लिए किया जाता है।

Question ID : 6549782897

Status : Not Answered

Chosen Option : --

Q.4 अगस्त 2020 में, आर्थिक मामलों की मंत्रिमण्डलीय समिति ने अक्टूबर 2020 से प्रारंभ विपणन वर्ष हेतु गन्ने का उचित एवं पारिश्रमिक मूल्य _____ प्रति क्विंटल घोषित किया था।

- Ans
- 1. ₹285
 - 2. ₹255
 - 3. ₹265
 - 4. ₹275

Question ID : 6549782877
Status : Answered
Chosen Option : 1

Q.5 तृतीयक उपभोक्ता, खाद्य श्रृंखला में _____ पोषी स्तर बनाते हैं।

- Ans
- 1. तीसरा
 - 2. चौथा
 - 3. दूसरा
 - 4. पहला

Question ID : 6549782888
Status : Not Answered
Chosen Option : --

Q.6 भारतीय दंड संहिता की धारा _____ गैरकानूनी सभा हेतु दंड से संबंधित है।

- Ans
- 1. 135
 - 2. 166
 - 3. 159
 - 4. 143



Studytosuccess.in

Question ID : 6549782882
Status : Answered
Chosen Option : 1

Q.7 जून 2020 में, अंतर्राष्ट्रीय मुद्रा कोष (IMF) ने भारतीय अर्थव्यवस्था में _____% संकुचन का अनुमान व्यक्त किया था।

- Ans
- 1. 6.25
 - 2. 8.50
 - 3. 2.25
 - 4. 4.50

Question ID : 6549782875
Status : Answered
Chosen Option : 1

Q.8 सोडियम कार्बोनेट का उपयोग _____ किया जाता है।

- Ans
- 1. अनेक रासायनिक उद्योगों में ऑक्सीकारक कर्मक के रूप में
 - 2. पेयजल को कीटाणुरहित बनाने के लिए
 - 3. जल की स्थायी कठोरता को दूर करने के लिए
 - 4. कपड़ा उद्योग में कपास और लिनेन के विरंजन के लिए

Question ID : 6549782889

Status : Answered

Chosen Option : 3

Q.9 बायो-गैस के संबंध में निम्नलिखित में से कौन सा कथन गलत है?

- Ans
- 1. बायो-गैस में मिथेन 1% से कम होता है।
 - 2. बायो गैस बिना धुआं उत्पन्न किए जलती है और कोई अवशेष नहीं बचता है।
 - 3. बायो-गैस के उत्पादन में पादप अवशेषों, वनस्पति अपशिष्ट और वाहित मल का उपयोग किया जाता है।
 - 4. बायो-गैस को 'गोबर-गैस' के रूप में भी जाना जाता है।

Question ID : 6549782891

Status : Answered

Chosen Option : 3

Q.10 महापद्मनंद ने _____ साम्राज्य पर शासन किया था।

- Ans
- 1. अवंति
 - 2. वत्स
 - 3. कोशल
 - 4. मगध



Studytosuccess.in

Question ID : 6549782905

Status : Answered

Chosen Option : 4

Q.11 2020-21 के अनुसार, कृषि लागत एवं मूल्य आयोग (सीएसीपी), _____ के लिए न्यूनतम समर्थन मूल्य (एमएसपी) अनुशंसित नहीं करता।

- Ans
- 1. सूरजमुखी
 - 2. अलसी
 - 3. मूंगफली
 - 4. सोयाबीन

Question ID : 6549782873

Status : Not Answered

Chosen Option : --

Q.12 निम्नलिखित में से कौन सा कथन गलत है?

- Ans
- 1. भारतीय रिज़र्व बैंक का 1949 में राष्ट्रीयकरण किया गया।
 - 2. रिज़र्व बैंक ने अप्रैल 1947 तक पाकिस्तान के केंद्रीय बैंक के रूप में कार्य किया।
 - 3. भारतीय रिज़र्व बैंक की स्थापना हिल्टन यंग आयोग की अनुशंसाओं के आधार पर की गई थी।
 - 4. भारतीय रिज़र्व बैंक ने 1 अप्रैल 1935 को अपना प्रचालन आरंभ किया।

Question ID : 6549782879

Status : Answered

Chosen Option : 2

Q.13 लॉर्ड वोल्डेमॉर्ट _____ की पुस्तक श्रृंखला में एक काल्पनिक चरित्र है।

- Ans
- 1. जे. के. रोलिंग
 - 2. रोल्ड डाहल
 - 3. आर. एल. स्टाइन
 - 4. रस्किन बॉण्ड

Question ID : 6549782869

Status : Answered

Chosen Option : 4

Q.14 _____ त्रिपुरा का एक प्रमुख पर्व है, जिसमें पालतू पशुओं और घन-संपत्ति के देवी/देवताओं की पूजा की जाती है।

- Ans
- 1. गरिया पूजा
 - 2. केर पूजा
 - 3. खरची पूजा
 - 4. लम्पारा पूजा



Studytosuccess.in

Question ID : 6549782860

Status : Answered

Chosen Option : 4

Q.15 निम्नलिखित में से कौन सा मठ (Monastery), सिक्किम में स्थित नहीं है?

- Ans
- 1. इंचे
 - 2. ताबो
 - 3. रालोंग
 - 4. पेमायांगत्से

Question ID : 6549782858

Status : Not Answered

Chosen Option : --

Q.16 सितंबर 2020 में निम्नलिखित में से कौन सा भारतीय युद्धपोत अलंग शिप ब्रेकिंग यार्ड में विनष्टीकरण (dismantling) के लिए पहुंचा था?

- Ans
- 1. आईएनएस विशाल
 - 2. आईएनएस विराट
 - 3. आईएनएस गोदावरी
 - 4. आईएनएस नीलगिरि

Question ID : 6549782870
Status : Answered
Chosen Option : 2

Q.17 भारतीय दंड संहिता के अंतर्गत, यदि कोई व्यक्ति आत्महत्या करने का प्रयास करेगा, तो उसे साधारण कारावास से दंडित किया जाएगा जिसे _____ तक बढ़ाया जा सकता है, या फिर आर्थिक दण्ड, या दोनों से दंडित किया जाएगा।

- Ans
- 1. 6 महीने
 - 2. 3 महीने
 - 3. 1 वर्ष
 - 4. 3 वर्ष

Question ID : 6549782883
Status : Answered
Chosen Option : 1

Q.18 मृदा की नमी बनाए रखने के लिए जैविक पदार्थ की एक परत से अनावृत्त भूमि को ढंकने की प्रक्रिया को _____ कहा जाता है।

- Ans
- 1. सीढ़ीदार खेती
 - 2. मल्लिचंग
 - 3. समोच्च जुताई
 - 4. अंतर - फसल



Study to success.in

Question ID : 6549782896
Status : Answered
Chosen Option : 1

Q.19 बैंकिंग विनियमन अधिनियम, 1949 की धारा 25 के अंतर्गत, प्रत्येक तिमाही के अंतिम शुक्रवार को व्यवसाय की समाप्ति पर, या शुक्रवार को सार्वजनिक अवकाश होने की स्थिति में, पूर्ववर्ती (preceding) कार्यदिवस के व्यवसाय की समाप्ति पर प्रत्येक बैंकिंग कंपनी की भारत में परिसंपत्तियां, भारत में इसकी मांग और समय देयताओं के _____ से कम नहीं होनी चाहिए।

- Ans
- 1. 25%
 - 2. 75%
 - 3. 50%
 - 4. 10%

Question ID : 6549782880
Status : Not Answered
Chosen Option : --

Q.20 निम्नलिखित में से कौन सा पशु, वैदिक भारत में 'अश्वमेध' अनुष्ठान से संबंधित था?

- Ans
- 1. हाथी
 - 2. घोड़ा
 - 3. बकरा
 - 4. बैल

Question ID : 6549782901
Status : Answered
Chosen Option : 2

Q.21 Which of the following is NOT a term used to denote couplets of a 'ghazal'?

- Ans
- 1. Maand/Mand
 - 2. Matla
 - 3. Makta/Maqta
 - 4. Misra

Question ID : 6549782862
Status : Answered
Chosen Option : 4

Q.22 निम्नलिखित में से कौन सा शब्द, नदियों से संबंधित नहीं है?

- Ans
- 1. वितरिका (Distributary)
 - 2. उल्खंड (Horst)
 - 3. जलप्रपात (Waterfall)
 - 4. विसर्प (Meander)



Studytosuccess.in

Question ID : 6549782894
Status : Answered
Chosen Option : 2

Q.23 _____, राजा समुद्रगुप्त के दरबार में एक कवि और मंत्री थे।

- Ans
- 1. वसुमित्र
 - 2. हरिषेण
 - 3. कंबन
 - 4. बाणभट्ट

Question ID : 6549782899
Status : Answered
Chosen Option : 2

Q.24 Leaves of the nettle plant secrete _____ acid which causes a painful sting on touching.

- Ans 1. methanoic
 2. acetic
 3. ascorbic
 4. oxalic

Question ID : 6549782892
Status : Answered
Chosen Option : 1

Q.25 _____ एक तमिल पर्व है जिसमें मंदिर की मूर्तियों को एक अनुष्ठानिक स्नान कराने के लिए एक जुलूस में (शोभायात्रा द्वारा) एक जलनिकाय तक ले जाया जाता है।

- Ans 1. मासी मागम
 2. वेट्टुकाड
 3. खुदो कुट
 4. मोपिन

Question ID : 6549782861
Status : Not Answered
Chosen Option : --

Q.26 'द डिसाइपल' चैतन्य तम्हाणे की _____ में एक पुरस्कार विजेता फिल्म है।

- Ans 1. मराठी
 2. हिंदी
 3. गुजराती
 4. अंग्रेजी



Studytosuccess.in

Question ID : 6549782868
Status : Not Answered
Chosen Option : --

Q.27 आर्थिक सर्वेक्षण _____ में आर्थिकी को भोजन की थाली से संबंधित करने के प्रयास में 'थालीनॉमिक्स' की अवधारणा प्रस्तुत की गई थी।

- Ans 1. 2019-20
 2. 2016-17
 3. 2018-19
 4. 2017-18

Question ID : 6549782878
Status : Answered
Chosen Option : 2